

M

cuaderno de
matemáticas

1 2 3 4 5




Cálculo y problemas de sumas y
restas combinadas




1 Indica con una X si las expresiones son verdaderas o falsas.




			V	F				V	F				
115	>	120	>	152			307	>	345	>	354		
178	<	181	<	189			162	>	145	>	157		
261	>	216	>	161			205	>	200	>	172		
270	<	207	<	27			239	<	216	<	293		




2 Observa y completa.




 → + 4  → + 5




132   

86   

100   

97   

119   

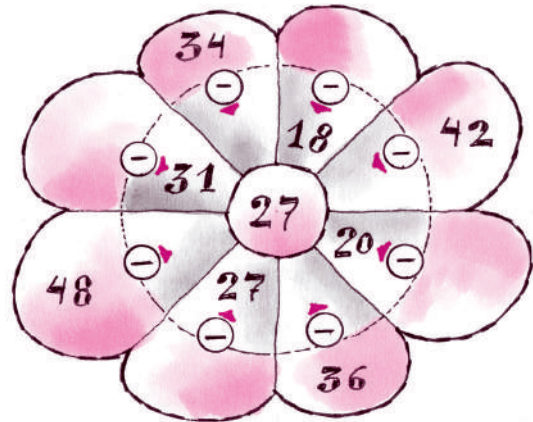
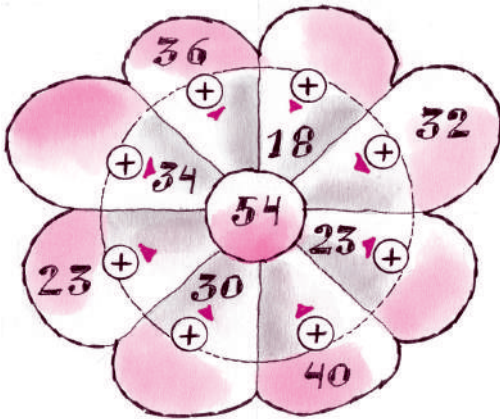
132   

3 Calcula.

$\begin{array}{r} 87 \\ + 46 \\ \hline \end{array}$	$\begin{array}{r} 91 \\ + 19 \\ \hline \end{array}$	$\begin{array}{r} 54 \\ + 78 \\ \hline \end{array}$	$\begin{array}{r} 132 \\ + 65 \\ \hline \end{array}$	$\begin{array}{r} 245 \\ + 165 \\ \hline \end{array}$	$\begin{array}{r} 324 \\ + 93 \\ \hline \end{array}$
<input type="text"/>	<input type="text"/>	<input type="text"/>	<input type="text"/>	<input type="text"/>	<input type="text"/>
$\begin{array}{r} 71 \\ - 24 \\ \hline \end{array}$	$\begin{array}{r} 164 \\ - 83 \\ \hline \end{array}$	$\begin{array}{r} 126 \\ - 108 \\ \hline \end{array}$	$\begin{array}{r} 231 \\ - 140 \\ \hline \end{array}$	$\begin{array}{r} 316 \\ - 224 \\ \hline \end{array}$	$\begin{array}{r} 450 \\ - 318 \\ \hline \end{array}$
<input type="text"/>	<input type="text"/>	<input type="text"/>	<input type="text"/>	<input type="text"/>	<input type="text"/>



4 Completa.



5 Escribe con números o letras.

608 _____



ochocientos catorce



quinientos diez


916 _____

730 _____




quinientos
cuarenta y tres

6 Calcula.



$\begin{array}{r} 259 \\ + 145 \\ \hline \end{array}$	$\begin{array}{r} 97 \\ + 155 \\ \hline \end{array}$	$\begin{array}{r} 262 \\ + 148 \\ \hline \end{array}$	$\begin{array}{r} 324 \\ + 276 \\ \hline \end{array}$	$\begin{array}{r} 353 \\ + 439 \\ \hline \end{array}$	$\begin{array}{r} 238 \\ + 71 \\ \hline \end{array}$
<input type="text"/>	<input type="text"/>	<input type="text"/>	<input type="text"/>	<input type="text"/>	<input type="text"/>
$\begin{array}{r} 199 \\ + 228 \\ \hline \end{array}$	$\begin{array}{r} 94 \\ + 377 \\ \hline \end{array}$	$\begin{array}{r} 232 \\ + 275 \\ \hline \end{array}$	$\begin{array}{r} 272 \\ + 243 \\ \hline \end{array}$	$\begin{array}{r} 61 \\ + 168 \\ \hline \end{array}$	$\begin{array}{r} 144 \\ + 98 \\ \hline \end{array}$
<input type="text"/>	<input type="text"/>	<input type="text"/>	<input type="text"/>	<input type="text"/>	<input type="text"/>



- 7 Arturo, ha comprado 600 globos. Durante la mañana han utilizado 239 unidades. ¿Cuántos globos **quedan** para la tarde?


Datos

Cálculo



Para la tarde quedan globos.

- 8 Escribe con letras los números que unen las flechas.



- 9 Calcula.


364	470	619	532	469	635
-242	-247	-459	-171	-272	-99
<input type="text"/>	<input type="text"/>	<input type="text"/>	<input type="text"/>	<input type="text"/>	<input type="text"/>
450	464	329	475	352	318
-138	-266	-243	-204	-149	-309
<input type="text"/>	<input type="text"/>	<input type="text"/>	<input type="text"/>	<input type="text"/>	<input type="text"/>



- 10 En el *Rally* de los Faraones de este año han participado 143 motos y 92 coches más que motos. ¿Cuántos vehículos han participado en total?

Datos

Cálculo



Han participado en total vehículos.

- 11 Ordena.

287 303 164 310 301 → < < < <

257 408 380 308 381 → > > > >

- 12 Calcula.

$\begin{array}{r} 354 \\ 74 \\ + 166 \\ \hline \end{array}$	$\begin{array}{r} 74 \\ 257 \\ + 106 \\ \hline \end{array}$	$\begin{array}{r} 339 \\ 170 \\ + 121 \\ \hline \end{array}$	$\begin{array}{r} 255 \\ 273 \\ + 222 \\ \hline \end{array}$	$\begin{array}{r} 13 \\ 357 \\ + 85 \\ \hline \end{array}$	$\begin{array}{r} 128 \\ 93 \\ + 235 \\ \hline \end{array}$
<input type="text"/>	<input type="text"/>	<input type="text"/>	<input type="text"/>	<input type="text"/>	<input type="text"/>

$\begin{array}{r} 290 \\ - 269 \\ \hline \end{array}$	$\begin{array}{r} 311 \\ - 79 \\ \hline \end{array}$	$\begin{array}{r} 214 \\ - 48 \\ \hline \end{array}$	$\begin{array}{r} 360 \\ - 267 \\ \hline \end{array}$	$\begin{array}{r} 391 \\ - 139 \\ \hline \end{array}$	$\begin{array}{r} 433 \\ - 345 \\ \hline \end{array}$
<input type="text"/>	<input type="text"/>	<input type="text"/>	<input type="text"/>	<input type="text"/>	<input type="text"/>



- 13 En la tormenta del domingo se recogieron en el depósito 246 litros de agua. Si en total caben 375 litros, ¿Cuántos litros **faltan** para llenarlo?

Datos

Cálculo



Faltan para llenarlo litros de agua.

- 14 Calcula mentalmente

23	+	16	+	9	=	
+		+		+		
	+	25	+		=	44
=		=		=		
30				21		

	+	14	+	17	=	40
+		+		+		
18	+		+		=	
=		=		=		
		23		32		

- 15 Calcula.

$$\begin{array}{r} 481 \\ - 369 \\ \hline \end{array}$$

$$\begin{array}{r} 562 \\ - 358 \\ \hline \end{array}$$

$$\begin{array}{r} 195 \\ - 68 \\ \hline \end{array}$$

$$\begin{array}{r} 556 \\ - 508 \\ \hline \end{array}$$

$$\begin{array}{r} 225 \\ - 76 \\ \hline \end{array}$$

$$\begin{array}{r} 438 \\ - 139 \\ \hline \end{array}$$

$$\begin{array}{r} 619 \\ - 567 \\ \hline \end{array}$$

$$\begin{array}{r} 606 \\ - 300 \\ \hline \end{array}$$

$$\begin{array}{r} 570 \\ - 272 \\ \hline \end{array}$$

$$\begin{array}{r} 349 \\ - 159 \\ \hline \end{array}$$

$$\begin{array}{r} 487 \\ - 179 \\ \hline \end{array}$$

$$\begin{array}{r} 533 \\ - 87 \\ \hline \end{array}$$



- 16 Juan plantó 509 tomateras, pero una tormenta estropeó 314.
¿Cuántas plantas **podrán darle** tomates?

Datos

Cálculo



Podrán darle tomates plantas.

- 17 Calcula.


58	414	342	415	18	39
485	53	206	230	268	250
+ 82	+ 133	+ 152	+ 55	+ 331	+ 111
<input type="text"/>	<input type="text"/>	<input type="text"/>	<input type="text"/>	<input type="text"/>	<input type="text"/>

- 18 Relaciona cada número con su descomposición.

- 19 Resuelve las operaciones y rodea el resultado.

537	4C + 2D
500	3C + 7D + 4U
374	5C
420	6C + 3U
603	5C + 3D + 7U

62+39 →	1	1	0	1
70-43 →	3	7	2	7
56+42 →	8	9	8	9
64-35 →	2	9	2	1
57+57 →	1	1	4	1



20 Escribe verdadero o falso.

• Alí, Eva y Ana llevan al parque un balón o una raqueta. Alí y Ana no llevan raqueta y Eva lleva balón. Los tres llevan lo mismo.

• Sue tiene 90 botellas de aceite. Si vende 20 a un cliente y 30 a un restaurante, le quedan para despachar menos de las que ha vendido.

21 La entrada infantil para el parque acuático cuesta 40 pesos y la de adulto, 170 pesos. ¿Cuánto **me cobrarán** si quiero invitar a mis padres?

Datos

Cálculo



Me cobrarán pesos.

22 Calcula.

57	334	107	144	90	27
441	271	33	336	479	124
+ 62	+ 305	+ 589	+ 240	+ 209	+ 13
<input type="text"/>	<input type="text"/>	<input type="text"/>	<input type="text"/>	<input type="text"/>	<input type="text"/>
355	667	720	463	758	632
- 260	- 483	- 270	- 306	- 362	- 76
<input type="text"/>	<input type="text"/>	<input type="text"/>	<input type="text"/>	<input type="text"/>	<input type="text"/>

